



29 Armando ha resuelto 21 problemas y Catalina ha resuelto 37.
¿Cuántos problemas más ha resuelto Catalina que Armando?





Respuesta: Catalina ha resuelto _____ problemas más que Armando.

30 Carmen tiene 57 pegatinas y Enrique 43.
¿Cuántas pegatinas más tiene Carmen que Enrique?




Respuesta: Carmen tiene _____ pegatinas más que Enrique.

31 Una muñeca cuesta 23 euros y una bicicleta cuesta 66 euros.
¿Cuántos euros más cuesta la bicicleta que la muñeca?




Respuesta: La bicicleta cuesta _____ euros más que la muñeca.

32 José Luis tiene 49 años y su hija Marilé tiene 12 años.
¿Cuántos años más tiene José Luis que Marilé?





Respuesta: José Luis tiene _____ años más que Marilé.

33 En primer curso hay 24 alumnos y en segundo curso hay 29.
¿Cuántos alumnos más hay en segundo que en primero?




Respuesta: En segundo hay _____ alumnos más que en primero.

34 En un avión viajan 75 mujeres y 73 hombres.
¿Cuántas mujeres más que hombres viajan en el avión?




Respuesta: En el avión viajan _____ mujeres más que hombres.

35 En un rebaño hay 87 ovejas y 62 corderos.
¿Cuántas ovejas más que corderos hay en el rebaño?




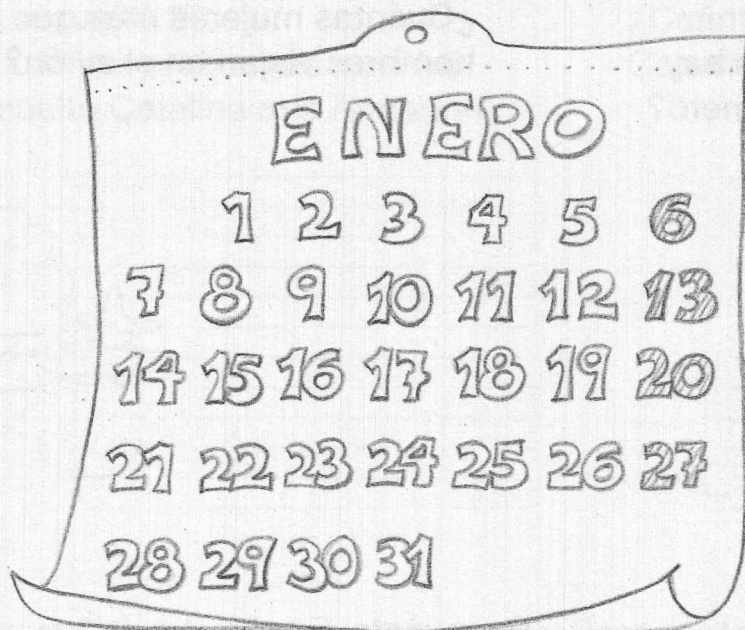
Respuesta: En el rebaño hay _____ ovejas más que corderos.

36 Fernando compró 46 sobres verdes y 22 sobres azules.
¿Cuántos sobres verdes más que azules compró Fernando?




Respuesta: Fernando compró _____ sobres verdes más que azules.

37 Enero tiene 31 días. Si hoy fuera día 20, ¿cuántos días faltarían para acabar el mes?




Respuesta: Faltarían _____

38 En un parque hay 12 pinos, 43 chopos y 8 robles. ¿Cuántos árboles hay en total?



Respuesta:
En total hay _____

39 Mi cuaderno tiene 76 páginas. Ya he gastado 25 páginas. ¿Cuántas páginas me faltan para terminar el cuaderno?



Respuesta:
Me faltan _____