

Ficha_de_trabajo_2020_semana06_A

Hablar protege la memoria

El lenguaje es una de las mayores armas con que cuenta el cerebro. Y ...
del buen funcionamiento de este órgano depende el mantenimiento de ...
las capacidades cognitivas; entre las cuales, la memoria es una más. ...

Las neuronas responsables del lenguaje no están aisladas del resto; por ...
el contrario, forman parte de la red de conexiones en la que radican la ...
memoria, la conducta o las emociones. ...

Las palabras son esenciales a la hora de comunicarnos con el entorno. Y ...
no solo eso; sin ellas no es posible pensar ni dar forma a las ideas que ...
germinan en la mente. Por eso, el desuso del lenguaje la perjudica. ...


Y el mejor antídoto son las relaciones personales. Es bueno tener amigos ...
y conocidos con los que compartir ideas y poder conversar sobre temas ...
de interés común. Hablar beneficia a la salud en su sentido más amplio. ...


Las personas que más hablan suelen ser extrovertidas y la extroversión ...
es un rasgo muy común entre quienes viven no solo más sino mejor, lo ...
que es más importante. ...


Repase atentamente la lectura; después, escriba a la derecha cuántas ...
veces aparece la letra v (uve) en cada línea y súmelas. ...


Ficha_de_trabajo_2020_semana06_B


Si un triángulo vale 1, un cuadrado 2 y un círculo 3, descubra cuáles de la filas inferiores tienen el mismo valor. _____

A.-  = _____

B.-  = _____

C.-  = _____

D.-  = _____

E.-  = _____

Indique la cantidad de cifras pares e impares del cuadro inferior.

Pares _____ Impares _____

614	633	638	617	651	630	659	625	645	624	640	655
643	652	626	641	616	619	642	636	637	661	628	
623	620	663	646	657	650	647	632	631	627	618	621
649	629	634	639	654	622	653	615	648	656	635	

Complete la frase con la lógica de las cifras indicadas.

_____ por _____ son ochenta y uno; si le sumamos
 _____ más tenemos ciento sesenta y dos.

Ficha_de_trabajo_2020_semana06_C

Escriba debajo las cifras que contengan un 5 desde 621 hasta 670.

Enlace sílabas de la filas 1, 2 y 3, en ese orden, sin repetir ninguna para formar 10 palabras con significado.

1ª VE DE EN CA PE NE TI MA SO TE
 2ª JE MI POR CA ÑA RRU RRA POR LO VE
 3ª RA TE GA TA JE RAS NO ZA NA TE

Indique cuáles son los cuadros que contienen tres figuras consecutivas en colocación idéntica a la mostrada debajo. -----



1		2		3		4	
5		6		7		8	
9		10		11		12	
13		14		15		16	

Ficha_de_trabajo_2020_semana06_D

Coloree las parejas de números que sumen 63.

40 23	50 30	29 27	19 11	38 25	16 52	31 49	36 12
20 37	21 42	38 11	51 32	41 44	60 53	27 36	32 32
33 31	48 48	14 45	37 26	46 39	28 26	22 41	54 42
43 20	60 10	35 35	18 40	39 24	20 34	35 28	62 17

Escriba nombres de alimentos vegetales con la inicial indicada.

A	_____	B	_____	C	_____
E	_____	F	_____	G	_____
H	_____	J	_____	L	_____
M	_____	N	_____	O	_____
P	_____	R	_____	S	_____
T	_____	U	_____	Z	_____