




En un autobús van 13 niñas y 8 niños.
 ¿Cuántos alumnos van en el autobús?

1. ¿Qué sabes?



2. ¿Qué te preguntan?



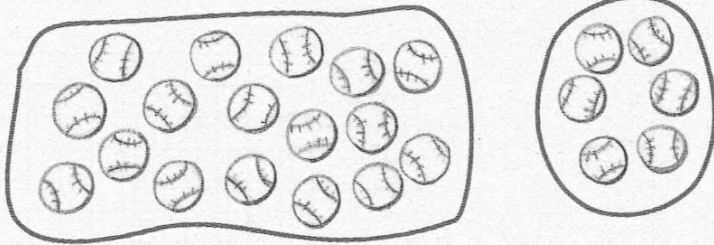
3. ¿Qué debes hacer para responder? sumar restar

niñas	→	13
niños	→	+ 8
total	→	21

Respuesta: En el autobús van 21 alumnos.


En un saco hay 17 pelotas de tenis y en otro hay 6.
¿Cuántas pelotas hay en total?

1. ¿Qué sabes?




3. ¿Qué debes hacer para responder?

sumar restar



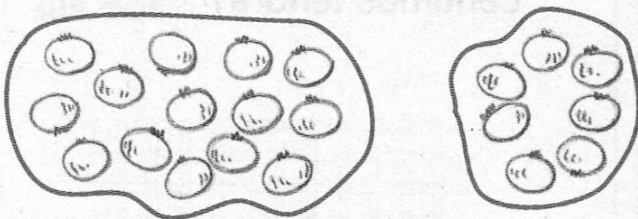
2. ¿Qué te preguntan?



Respuesta: En total hay _____ pelotas.


En un frutero hay 14 mandarinas y en otro hay 7.
¿Cuántas mandarinas hay entre los dos frutereros?

1. ¿Qué sabes?




3. ¿Qué debes hacer para responder?

sumar restar





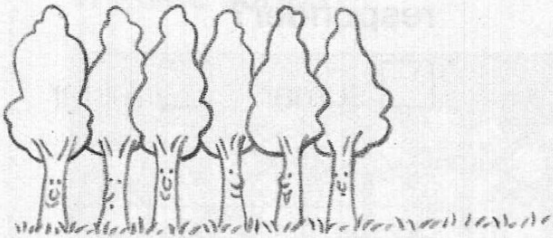
2. ¿Qué te preguntan?



Respuesta: Entre los dos frutereros hay _____ mandarinas.


PRÁCTICA

- 8 En un campo hay dos filas de árboles.
En la primera hay 6 árboles y en la segunda 17.
¿Cuántos árboles hay en el campo?




Respuesta: En el campo hay _____

- 9 En un garaje hay 19 coches
y en otro hay 6 coches.
¿Cuántos coches hay entre
los dos garajes?




Respuesta: Entre los dos garajes
hay _____

- 10 En la hucha tengo 48 céntimos.
Si echo los 9 céntimos que me
ha dado mi abuelo, ¿cuántos
céntimos tendré?



Respuesta:
Tendré _____


- 11** En el patio de recreo había 55 niños y llegaron 6 más.
¿Cuántos niños hay en total?



Respuesta:

En total hay _____


- 13** Carmen tiene 37 cromos y Elisa tiene 24.
¿Cuántos cromos tienen entre las dos?



Respuesta: Entre las dos

tienen _____


- 12** En un jardín hay 28 margaritas y 26 rosas.
¿Cuántas flores hay en el jardín?



Respuesta:

En el jardín hay _____


- 14** En una piscina vacía se han echado 36 litros de agua un día y 16 litros el día siguiente.
¿Cuántos litros de agua hay en la piscina?



Respuesta: En la piscina


hay _____

15 Un ciclista recorrió 28 kilómetros un día y 18 al día siguiente.
¿Cuántos kilómetros ha recorrido en total?




Respuesta: En total ha recorrido _____

16 Un equipo necesita obtener 46 puntos para ganar un concurso. Si ya ha obtenido 24 puntos, ¿cuántos puntos le faltan por conseguir?




Respuesta: Le faltan por conseguir _____

17 Alfredo tenía una colección de 29 coches en miniatura. Le ha regalado 14 a su amiga Andrea.
¿Cuántos coches le quedan?



Respuesta:
Le quedan _____

18 En un huerto hay 68 lechugas y en otro 17.
¿Cuántas lechugas hay entre los dos huertos?



Respuesta: Entre los dos huertos hay _____