






26 Observa en la tabla las personas que han subido a un autobús en cada parada.

Parada	Personas que han subido
 Calle de Navarra	35
 Calle Mayor	7
 Calle América	15

- ¿Cuántas personas han subido al autobús en las tres paradas?

**Respuesta:** En las tres paradas han subido \_\_\_\_\_

27 Un jardín tiene 49 árboles.  
Se talan 16 árboles.  
¿Cuántos árboles quedan en el jardín?

**Respuesta:**  
Quedan \_\_\_\_\_

28 Alberto tenía 89 euros y gastó 35 en la compra.  
¿Cuántos euros le quedan a Alberto?


**Respuesta:**  
Le quedan \_\_\_\_\_





En una caja grande hay 16 bombones y en otra pequeña hay 12 bombones.

¿Cuántos bombones más hay en la caja grande que en la pequeña?

1. ¿Qué sabes?



2. ¿Qué te preguntan?



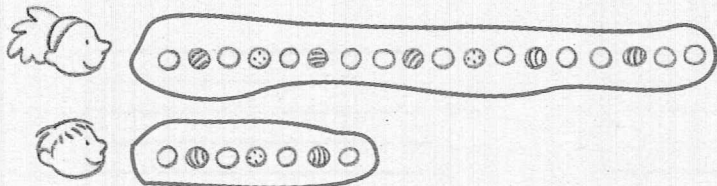
3. ¿Qué debes hacer para responder?  sumar  restar

caja grande	→	16
caja pequeña	→	- 12
diferencia	→	4

**Respuesta:** En la caja grande hay 4 bombones más que en la pequeña.


Laura tiene 18 canicas y Antonio tiene 7 canicas.  
 ¿Cuántas canicas más tiene Laura que Antonio?

1. ¿Qué sabes?




3. ¿Qué debes hacer para responder?

sumar     restar




2. ¿Qué te preguntan?



**Respuesta:** Laura tiene \_\_\_\_\_ canicas más que Antonio.


En una pecera hay 14 peces y en otra 12 peces.  
 ¿Cuántos peces más hay en una pecera que en la otra?

1. ¿Qué sabes?




3. ¿Qué debes hacer para responder?

sumar     restar




2. ¿Qué te preguntan?



**Respuesta:** En una pecera hay \_\_\_\_\_ peces más que en la otra.




**29** Armando ha resuelto 21 problemas y Catalina ha resuelto 37.  
¿Cuántos problemas más ha resuelto Catalina que Armando?





**Respuesta:** Catalina ha resuelto \_\_\_\_\_ problemas más que Armando.

**30** Carmen tiene 57 pegatinas y Enrique 43.  
¿Cuántas pegatinas más tiene Carmen que Enrique?




**Respuesta:** Carmen tiene \_\_\_\_\_ pegatinas más que Enrique.

**31** Una muñeca cuesta 23 euros y una bicicleta cuesta 66 euros.  
¿Cuántos euros más cuesta la bicicleta que la muñeca?




**Respuesta:** La bicicleta cuesta \_\_\_\_\_ euros más que la muñeca.

**32** José Luis tiene 49 años y su hija Marilé tiene 12 años.  
¿Cuántos años más tiene José Luis que Marilé?





**Respuesta:** José Luis tiene \_\_\_\_\_ años más que Marilé.

**33** En primer curso hay 24 alumnos y en segundo curso hay 29.  
¿Cuántos alumnos más hay en segundo que en primero?




**Respuesta:** En segundo hay \_\_\_\_\_ alumnos más que en primero.

**34** En un avión viajan 75 mujeres y 73 hombres.  
¿Cuántas mujeres más que hombres viajan en el avión?




**Respuesta:** En el avión viajan \_\_\_\_\_ mujeres más que hombres.

**35** En un rebaño hay 87 ovejas y 62 corderos.  
¿Cuántas ovejas más que corderos hay en el rebaño?



**Respuesta:** En el rebaño hay \_\_\_\_\_ ovejas más que corderos.

**36** Fernando compró 46 sobres verdes y 22 sobres azules.  
¿Cuántos sobres verdes más que azules compró Fernando?



**Respuesta:** Fernando compró \_\_\_\_\_ sobres verdes más que azules.